

Opgave 5 – Zuidoost-Azië: Klimaten in Zuidoost-Azië

Bestudeer bron 1 uit het bronnenboekje die bij deze opgave hoort.

Gebruik bron 1 en de atlas.

De klimaatdiagrammen in de bron horen bij de steden Bangkok (Thailand), Hanoi (Vietnam), Singapore en Yangon (Myanmar).

- 2p **18** Noteer de letters a tot en met d onder elkaar op je antwoordblad. Schrijf achter elke letter de naam van de stad die erbij hoort.

Gebruik bron 1 en de atlas.

In drie van de vier steden van de bron valt in de periode november tot en met maart weinig neerslag.

- 2p **19** Leg aan de hand van de luchtdrukverdeling boven Zuidoost-Azië uit waardoor juist in deze periode zo weinig neerslag valt. Je uitleg moet een oorzaak-gevolg relatie bevatten.

In Myanmar verandert de lengte van het natte moessonseizoen van zuid naar noord.

- 2p **20** Beschrijf deze verandering. Geef de oorzaak voor deze verandering.

De belangrijkste landbouwgebieden van Zuidoost-Azië bevinden zich in de laaglanden van Vietnam, Cambodja, Thailand en Myanmar. De moessonregens dragen bij aan de vruchtbaarheid van de bodems in deze gebieden.

- 2p **21** Leg uit hoe de moessonregens daaraan bijdragen. Je uitleg moet een oorzaak-gevolg relatie bevatten.

Opgave 5 – Zuidoost-Azië: Klimaten in Zuidoost-Azië

bron 1

diagram a

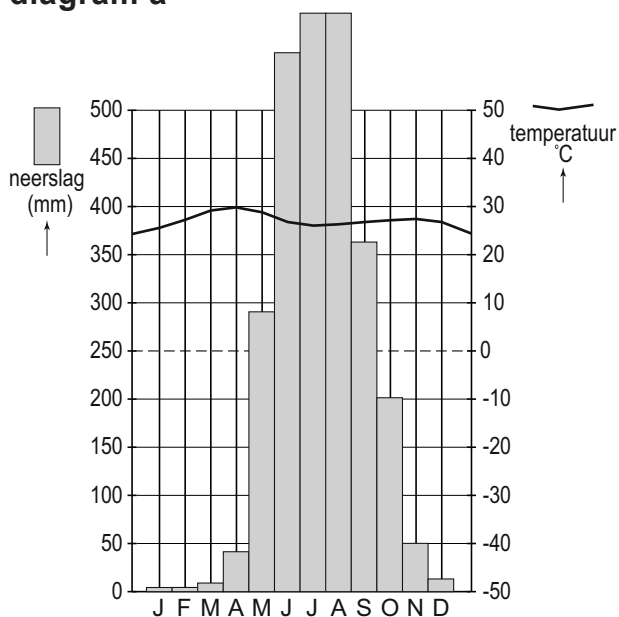


diagram b

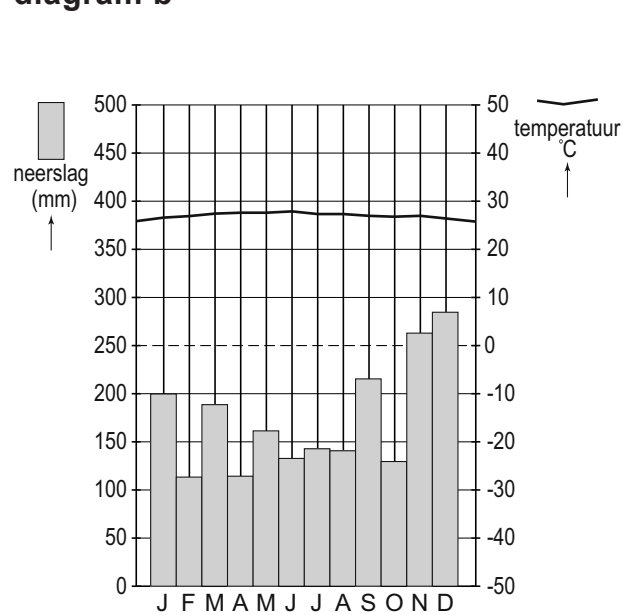


diagram c

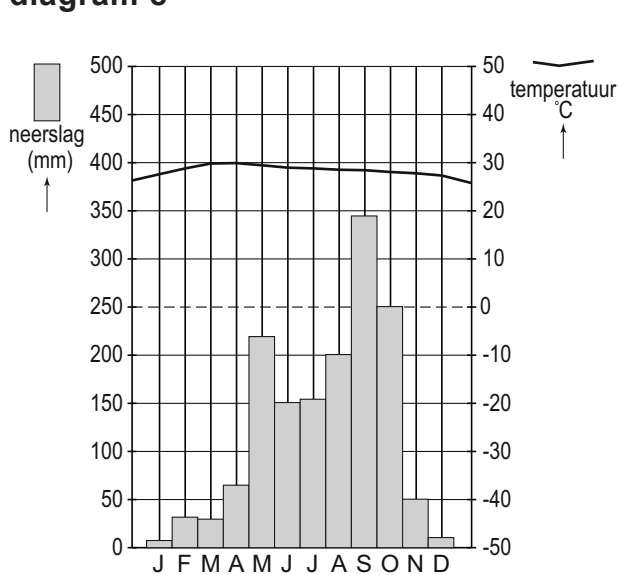
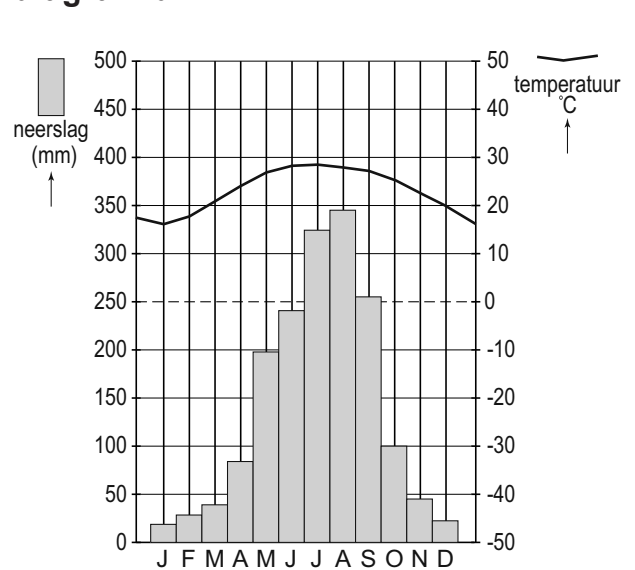


diagram d



vrij naar: www.klimadiagramme.de en
www.climatediagrams.com/climate.php

Bronvermelding

Een opsomming van de in dit examen gebruikte bronnen, zoals teksten en afbeeldingen, is te vinden in het bij dit examen behorende correctievoorschrift, dat na afloop van het examen wordt gepubliceerd.